

ORAL-QAT

Model Paper for Class Nursery/Prep

Quality Assurance and Improvement Directorate (QAID)

We Assure Quality Education

Class: N/P

Class: Nursery/Prep

This is a sample paper for introduction of paper pattern only. PEF partners are encouraged to give the practice tests to students on the same pattern.

Roll No. _____

Signature of Supervisor _____

<p style="text-align: center;">GENDER Please tick <input checked="" type="checkbox"/> one</p> <p style="text-align: center;">Male <input type="checkbox"/> Female <input type="checkbox"/></p>	<p>Total Marks: 30</p>
--	-------------------------------

ضروری ہدایات

- 5۔ اگر بچے انگلش زبان کو سمجھنے میں دشواری محسوس کریں تو انگلش کی بجائے اردو میں سوال پوچھ لیں، اگر کچھ بچے اردو زبان بھی نہ سمجھ سکیں تو مقامی زبان میں سوالات پوچھنے کے لیے ان کے اساتذہ کی مدد لی جاسکتی ہے۔
- 6۔ ریاضی میں سوال حل کرنے کے لیے اگر بچہ پینسل، پیپر کا مطالبہ کرے تو وہ مہیا کر دیے جائیں۔
- 7۔ یہ بات واضح طور پر یاد رکھی جائے کہ تمام ٹیسٹ زبانی ہونگے۔ مہیا کردہ ایوارڈسٹ میں بچوں کے نام اور متعلقہ خانوں میں مضامین کے نمبر درج کریں۔

- 1۔ ٹیسٹ دینے والے بچوں کو باقی بچوں سے علیحدہ کر لیا جائے۔
- 2۔ ٹیسٹ شروع کرنے سے پہلے ایک دوستانہ ماحول پیدا کریں تاکہ بچے آسانی سے سوالات کو سمجھ کر جوابات دے سکیں۔
- 3۔ چھوٹے بچے نئے پھرے دیکھ کر جواب دینے میں جھجک محسوس کرتے ہیں، لہذا ایسے بچوں کو ایک سے دو منٹ دیں تاکہ وہ آسانی سے جواب دیں سکیں۔
- 4۔ اگر ممکن ہو تو ٹیسٹ لیتے وقت یہ کوشش کریں کہ باقی موجود بچے سوالات اور ان کے جوابات کو نہ سن سکیں۔



**PUNJAB
EDUCATION FOUNDATION**



MATHEMATICS

Total Marks: 10

SECTION- I

(2×2 = 4)

Q.No.1. Complete any 2 of the given patterns-Each pattern carries two marks.

سوال نمبر 1: دیئے گئے نمونوں میں سے کوئی سے دو کو مکمل کریں۔ ہر ایک کے 2 نمبر ہیں۔




SECTION- II

(1×4 = 4)

Q.N.2 Fill in the missing place with numbers. Ask any four missing numbers. Each missing number carries one mark.

سوال نمبر 2: اعداد کی مدد سے خالی جگہ کو پُر کریں۔ کوئی سے چار اعداد پوچھیں۔ ہر خالی جگہ کا ایک نمبر ہے۔



SECTION- III

(2 marks)

NOTE: Ask any one questions.

نوٹ: کوئی سا ایک سوال پوچھئے۔

(i) Which of the following vegetable is heaviest.

(i) درج ذیل میں سے کونسی سبزی سب سے بھاری ہے؟



A



B



C

(ii) Which of the following object is lightest.

(ii) درج ذیل میں سے کونسی چیز سب سے ہلکی ہے؟



A



B



C

(iii) Which of the following balls is small?

(iii) درج ذیل میں سے کونسی گیند چھوٹی ہے؟



A



B

(iv) Which of the following pineapples is big?

(iv) درج ذیل میں سے کونسا انناس بڑا ہے؟



A



B

ENGLISH

Total Marks: 10

Section I

Q.No.1. Tell the name of ANY FOUR pictures:

Marks: 4

Section II**Q.NO.2. Read and match with similar letter. (Any three)****Marks: 3**

a	n
p	d
d	a
n	p
o	r
r	t
t	o

Section III**Q.No.3. Ask only THREE alphabets from the following:****Marks: 3**

B	O
E	D
G	U
C	L
K	H


اردو

کل نمبر: 10

Section I

نمبر: 3

سوال: کوئی سے تین حروف بتائیں۔



Section II

نمبر: 3








سوال: کوئی سے تین ایک جیسے حروف کو آپس میں ملائیں۔

پ	ش
آ	ت
ب	پ
ش	ا
ت	ط
ا	ب
ط	آ

Section III

نمبر: 4

سوال: کوئی سے چار حروف کو متعلقہ تصاویر سے ملائیں۔

	ا
	ج
	آ
	پ
	ط
	ت
	ث