

ORAL-QAT

Model Paper for Class One

Quality Assurance and Improvement Directorate (QAID)

We Assure Quality Education

Class: 1

Class: One

This is a sample paper for introduction of paper pattern only. PEF partners are encouraged to give the practice tests to students on the same pattern.

Roll No. _____

Signature of Supervisor _____

GENDER Please tick <input checked="" type="checkbox"/> one Male <input type="checkbox"/> Female <input type="checkbox"/>	Total Marks: 40
---	------------------------

ضروری ہدایات

5۔ اگر بچے انگلش زبان کو سمجھنے میں دشواری محسوس کریں تو انگلش کی بجائے اردو میں سوال پوچھ لیں، اگر کچھ بچے اردو زبان بھی نہ سمجھ سکیں تو مقامی زبان میں سوالات پوچھنے کے لیے ان کے اساتذہ کی مدد لی جاسکتی ہے۔

6۔ ریاضی میں سوال حل کرنے کے لیے اگر بچہ پینسل، پیپر کا مطالبہ کرے تو وہ مہیا کر دیے جائیں۔

7۔ یہ بات واضح طور پر یاد رکھی جائے کہ تمام ٹیسٹ زبانی ہونگے۔ مہیا کردہ ایوارڈ لسٹ میں بچوں کے نام اور متعلقہ خانوں میں مضامین کے نمبر درج کریں۔

1۔ ٹیسٹ دینے والے بچوں کو باقی بچوں سے علیحدہ کر لیا جائے۔

2۔ ٹیسٹ شروع کرنے سے پہلے ایک دوستانہ ماحول پیدا کریں تاکہ بچے آسانی سے سوالات کو سمجھ کر جوابات دے سکیں۔

3۔ چھوٹے بچے نئے پھرے دیکھ کر جواب دینے میں جھجک محسوس کرتے ہیں، لہذا ایسے بچوں کو ایک سے دو منٹ دیں تاکہ وہ آسانی سے جواب دیں سکیں۔

4۔ اگر ممکن ہو تو ٹیسٹ لیتے وقت یہ کوشش کریں کہ باقی موجود بچے سوالات اور ان کے جوابات کو نہ سن سکیں۔



**PUNJAB
EDUCATION FOUNDATION**



MATHEMATICS

Total Marks: 10

SECTION- I (4 marks)**NOTE: Ask any two questions. Each question carries 2 marks.**

نوٹ: کوئی سے دو سوال پوچھئے۔ ہر سوال کے 2 نمبر ہیں۔

Q.No.1 Identify the number less than the other.

سوال نمبر 1۔ چھوٹے عدد کو پہچانیں

89

78

Q.No.2 What comes after?

سوال نمبر 2۔ عدد کے بعد کونسا عدد آتا ہے؟

62

Q.No.3 What comes between?

سوال نمبر 3۔ اعداد کے درمیان کونسا عدد آتا ہے؟

89

91

Q.No.4 Which one is the greater number?

سوال نمبر 4۔ کونسا عدد بڑا ہے؟

69

59

SECTION- II (4 marks)

NOTE: Ask any two questions. Each question carries 2 marks.

نوٹ: کوئی سے دو سوال پوچھئے۔ ہر سوال کے 2 نمبر ہیں۔

- (i) $5 + 10$ (ii) $8 - 4$ (iii) $7 + 2$ (iv) $5 - 2$

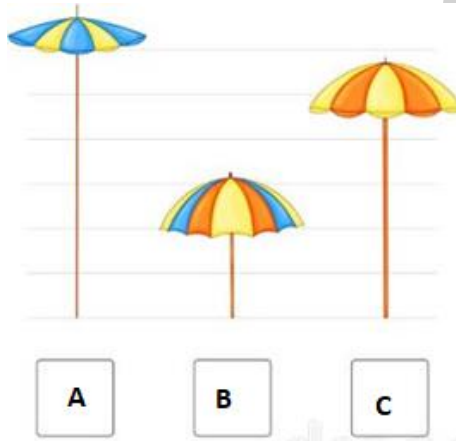
SECTION- III (2 marks)

NOTE: Ask any two questions. Each question carries one mark.

نوٹ: کوئی سے دو سوال پوچھئے۔ ہر سوال کا ایک نمبر ہے۔

(i) Which of the following is the shortest umbrella?

(i) درج ذیل میں سے کونسی چھتری سب سے چھوٹی ہے؟




(ii) Which of the following is the tallest building?

(ii) درج ذیل میں سے کونسی عمارت سب سے اونچی ہے؟



(iii) Which of the following is the heaviest fruit in the given picture?

(iii) درج ذیل میں سے کونسا پھل سب سے زیادہ بھاری ہے؟



1



3



2

(iv) Which of the following is the lightest object in the given picture?


(iv) درج ذیل میں سے کونسی چیز سب سے زیادہ ہلکی ہے؟



3



2



1

ENGLISH


Total Marks: 10

Section I

Q.No.1. Look and say the names of the shapes.

(Tell any three)

(3)



Section II

Q.No.2. Read the given letters and say their sounds.

(Any five)

(5)

s	e	c	t
m	n	x	b

Section III

Q.No.3. Check the reading ability of students, read any TWO words.

(2)

1 cobbler

2 box

3 study

4 family

5 school

اردو

کل نمبر: 10





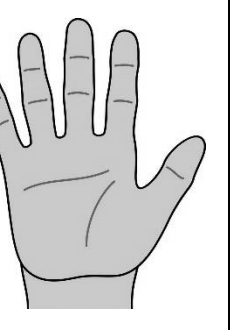
Section I

سوال نمبر 1: کوئی سے دو توڑ کے جوڑ پڑھ کر بتائیں۔ - (2×2 = 4)

م-د-ی-ن-ہ	آ-خ-ر-ی	ش-و-ق	د-ا-د-ی
ک-ہ-ا-ن-ی-ا-ں	پ-ی-ا-ر	م-و-ت-ی-ا	
	پ-ا-ن-ی		

Section II

سوال نمبر 2: دی ہوئی تصویروں میں سے کوئی سی دو تصویروں کا کام پوچھیں۔ - (2×2 = 4)

				
چلنا	دیکھنا	سونگھنا	سننا	پکڑنا، اٹھانا

Section III

سوال نمبر 3۔ کوئی سے دو سوالات کے جوابات پوچھیں۔ ہر سوال کا ایک نمبر ہے۔ 2

1۔ حضرت محمد خاتم النبیین ﷺ نے ہمیں کونسا راستہ دکھایا؟

2۔ کرن کے گھر میں کتنے لوگ رہتے تھے؟

3۔ سکول کے میدان کا کیا فائدہ ہے؟

4۔ حضرت محمد خاتم النبیین ﷺ نے ہمیں کون کونسی باتیں بتائیں؟

5۔ اگر ضروری بات کہنی ہو تو کیا کرنا چاہیے؟

6۔ علامہ اقبال رحمۃ اللہ علیہ کے گھر کے دروازے پر کیا لکھا تھا؟

واقفیت عامہ

کل نمبر: 10

SECTION-I

(2 × 2 = 4)

سوال نمبر 1: دی گئی تصاویر میں آپ کو کون سی اچھی عادات نظر آ رہی ہیں۔ کوئی سی دو کو ان کے متعلقہ کالم سے ملائیں۔
ہر سوال کے 2 نمبر ہیں۔

کالم (الف)	کالم (ب)
صحت بخش کھیل کھیلنا	
ورزش کرنا	
ہاتھوں کو صابن سے دھونا	
دانت برش کرنا	

SECTION- II

(2 × 2 = 4)

سوال نمبر 2: مندرجہ ذیل سوالات میں سے کوئی سے دو سوال پوچھیں۔ ہر سوال کے 2 نمبر ہیں۔

مسلمان نماز کجاں پڑھتے ہیں؟	1
سکول میں بچوں کو پڑھانے کا کام کون کرتا کرتی ہے؟	2
پاکستان کے کسی ایک شہر کا نام بتائیے۔	3
پڑوسی کسے کہتے ہیں؟	4
آپ کو کونسا کھیل پسند ہے؟	5
ابو کے چھوٹے بھائی کو کیا کہتے ہیں؟	6

SECTION- III

(1 × 2 = 2)

سوال نمبر 3: مندرجہ ذیل سوالات میں سے کوئی سا ایک سوال پوچھیں۔

دن کے وقت آسمان کیسا نظر آتا ہے؟	1
ہم کس تاریخ کو جشن آزادی مناتے ہیں؟	2
آپ گھر میں کون سی زبان بولتے ہیں؟	3
چینی کا ذائقہ کیسا ہوتا ہے؟	4