

**Model Paper for Class 3**

Quality Assurance and Improvement Directorate (QAID)

We Assure Quality Education

**Class: 3****GRADE: 3<sup>RD</sup>**

This is a sample paper for introduction of paper pattern only. PEF partners are encouraged to give the practice tests to students on the same pattern.

|                |                               |
|----------------|-------------------------------|
| Roll No. _____ | Signature of Supervisor _____ |
|----------------|-------------------------------|

**GENDER**  
Please tick  one

**Male  Female**

**Total Time: 2Hours**

**Total Marks: 100**

| Subject      | Total Marks | Obtained Marks |
|--------------|-------------|----------------|
| Mathematics  | 25          |                |
| English      | 25          |                |
| Urdu         | 25          |                |
| واقفیت عامہ  | 25          |                |
| <b>Total</b> | <b>100</b>  |                |

**ضروری ہدایات**

- 1- حاضری شیٹ کے مطابق صرف مقرر کی گئی جگہ پر اپنا رول نمبر تحریر کریں۔
- 2- طلباء (Male) والے اور طالبات (Female) والے ڈبے پر نشان لگائیں۔
- 3- ہر سوال لازمی ہے اور تمام مضامین کے یکساں نمبر ہیں۔
- 4- سوال حل کرنے سے پہلے دی گئی ہدایات غور سے پڑھ لیں۔
- 5- امتحانی مرکز میں طلباء و طالبات کے پاس کلپ بورڈ اور پین کے علاوہ کچھ اور نہیں ہونا چاہیے۔ تمام سوالات کو حل کرنے اور روف عمل کرنے کے لیے جگہ پرچہ میں موجود ہے لہذا کسی قسم کا اضافی صفحہ لانے کی ضرورت نہیں ہے۔
- 6- کچی پینسل کا استعمال ہرگز نہ کریں۔ صرف نیلی یا سیاہ بال پوائنٹ، پوائنٹ یا انک پین کا استعمال کریں۔
- 7- کاٹ کر یا کسی بھی طریقہ سے مٹا کر لکھے گئے جوابات غلط تصور ہوں گے۔
- 8- مقررہ وقت کے علاوہ کوئی اضافی ٹائم نہیں دیا جائے گا۔
- 9- نقل سے گریز کریں ورنہ آپ کا پرچہ کنینسل کر دیا جائے گا۔
- 10- موبائل فون کا استعمال منع ہے۔
- 11- صرف نم اور دہم کلاسز کو کیلکولیٹر استعمال کرنے کی اجازت ہے۔
- 12- پرچہ جلد حل کرنے کی صورت میں اطمینان سے بیٹھیں اور مقررہ وقت کے ختم ہونے کا انتظار کریں۔



**PUNJAB  
EDUCATION FOUNDATION**



**MATHEMATICS****SECTION – I**

Total Marks: 25

10 Marks

(1× 3=3)

Q. No.1. Write in Roman numbers.

سوال نمبر 1: رومن اعداد میں لکھیے۔

|    |  |
|----|--|
| 18 |  |
| 12 |  |
| 8  |  |

(1× 4=4)

Q.No.2. Write the numbers in words.

سوال نمبر 2: اعداد کو الفاظ میں لکھیے۔

| Numbers(اعداد) | Words(الفاظ) |
|----------------|--------------|
| 80321          |              |
| 63250          |              |
| 25812          |              |
| 58744          |              |

(1× 3=3)

Q.No.3. Complete the table:

سوال نمبر 3: پہاڑا مکمل کیجیے۔

|   |   |    |   |   |   |
|---|---|----|---|---|---|
| × | 1 | 2  | 3 | 4 | 5 |
| 6 | 6 | 12 |   |   |   |

**SECTION – II**

8 Marks

**Q.No.1. Add the following:** $(2 \times 2 = 4)$ 

سوال نمبر 1: درج ذیل کو جمع کریں۔

|   |  |
|---|--|
| <p>(i)</p> $\begin{array}{r} 6\ 1\ 4\ 1 \\ +\ 3\ 2\ 1\ 5 \\ \hline \end{array}$ | <p>(ii)</p> $\begin{array}{r} 3\ 5\ 2\ 6 \\ +\ 1\ 4\ 2\ 1 \\ \hline \end{array}$ |
|---|--|

**Q.No.2. Subtract the following (Any two questions):** $(2 \times 2 = 4)$ 

سوال نمبر 2: درج ذیل کو تفریق کریں۔ (کوئی سے دو سوال)

|   |  |
|---|--|
| <p>(i)</p> $\begin{array}{r} 5\ 5\ 4\ 3 \\ -\ 1\ 1\ 2\ 2 \\ \hline \end{array}$   | <p>(ii)</p> $\begin{array}{r} 9\ 7\ 5\ 4 \\ -\ 7\ 6\ 5\ 4 \\ \hline \end{array}$ |
| <p>(iii)</p> $\begin{array}{r} 8\ 5\ 4\ 6 \\ -\ 1\ 3\ 2\ 1 \\ \hline \end{array}$ |  |

**SECTION – III**

7 Marks

**Q.No.1. Subtract the fractions:** $(2 \times 2 = 4)$ 

سوال نمبر 1: کسور کو تفریق کریں۔

|      |                               |
|------|-------------------------------|
| (i)  | $\frac{4}{7} - \frac{3}{7} =$ |
| (ii) | $\frac{5}{8} - \frac{4}{8} =$ |

(1× 3=3)

Q.No.2. Use “&lt;”, “&gt;” and “=” in the following fractions:

سوال نمبر 2: درج ذیل کسور میں دی گئی علامات استعمال کریں، “=”، “&gt;” اور “&lt;”

|       |               |  |               |
|-------|---------------|--|---------------|
| (i)   | $\frac{7}{9}$ |  | $\frac{5}{9}$ |
| (ii)  | $\frac{3}{5}$ |  | $\frac{7}{5}$ |
| (iii) | $\frac{5}{8}$ |  | $\frac{3}{8}$ |

PEF Model Paper 2026-27

**ENGLISH**

Total Marks: 25

**SECTION – I****7 Marks**

Q.No.1.

(a) Fill any **FOUR** of the following missing letters to complete the words.

(4)

|            |        |            |         |         |
|------------|--------|------------|---------|---------|
| act__ vely | s__ gn | fe__ tival | cle__ n | sm__ rt |
|------------|--------|------------|---------|---------|

(b) Change following singular nouns into plural nouns.

(3)

| Singular | Plural |
|----------|--------|
| fox      | _____  |
| bench    | _____  |
| catch    | _____  |

**SECTION – II****9 Marks**

Q.No.1.

(a) Circle the Nouns from the following.

(3)

|    |       |       |        |
|----|-------|-------|--------|
| a) | Fight | Big   | Wheat  |
| b) | Run   | Alina | Listen |
| c) | Brown | Talk  | House  |

(b) Look at the picture and write a word by using 'ch' sound. (3)

a) \_\_\_\_\_



b) \_\_\_\_\_



c) \_\_\_\_\_



(c) Match the opposite words from the following. (3)

|       |        |
|-------|--------|
| good  | dirty  |
| clean | unkind |
| kind  | bad    |

**SECTION – III**

**9 Marks**

**Q.No.1.**

(a) Read the sentences and mark the tense they belong to. (3)

I was a teacher. Present / Past / Future

He is a teacher. Present / Past / Future

I will be teacher. Present / Past / Future

(b) Read the paragraph and answer the questions. (2)

I live in small house. I called it a ‘happy home’. My grandparents also live with us. My grandfather tells me that a happy home protects children and helps them to grow in their abilities and skills. It is also very important to listen to our parents and grandparents when they tell us important things.

I. Where do the grandparents live?

---



---

II. How can the family protect children?

---



---

(c) Use any **FOUR** of the following words in meaningful sentences of your own. (4)

| Words      | Sentences |
|------------|-----------|
| Activity   | <hr/>     |
| Protection | <hr/>     |
| Express    | <hr/>     |
| Cross      | <hr/>     |
| Brave      | <hr/>     |

اردو

کل نمبر: 25

**SECTION – I**

**8 Marks**

سوال نمبر 1: مندرجہ ذیل سوالوں کے مختصر جواب دیں۔ یہ تمام سوالات مشق میں موجود مہارت "آپ نے کیا سمجھا؟" میں سے لیے جائیں گے۔  
سوال الف: سبق 'بے مثل' ہے ذات رسول کریم خاتم النبیین ﷺ کی 'کے مطابق نبی کریم خاتم النبیین ﷺ نے کس چیز کو ایمان کی شرط قرار دیا؟

جواب:-----

-----

سوال ب: سبق 'ہم کیوں بھول جاتے ہیں' کے مطابق زیر اگر سنگ کے کہتے ہیں؟

جواب:-----

-----

سوال ج: نظم 'پاک وطن ہے پاکستان' کے مطابق پاکستان کے لوگ کیسے ہیں؟

جواب:-----

-----

سوال د: سبق 'سب میں خاص' کے مطابق پیشہ کے کہتے ہیں؟

جواب:-----

-----

**SECTION – II****8 Marks**

سوال نمبر 1: - مثال کے مطابق دیے ہوئے اشاروں کی مدد سے حروف کی ترتیب درست کر کے متعلقہ کوئی سے چار پیشوں کا نام لکھیں

(4) -

نوٹ: اس سوال میں مشق میں دی گئی مہارت "لفظوں کا کھیل" میں موجود تمام طرز کے سوالات لیے جاسکتے ہیں۔

| نئے پیشے | حروف |   |   |    |   |   | اشارے                     |
|----------|------|---|---|----|---|---|---------------------------|
| درزی     |      |   | ر | ی  | د | ز | کپڑے سینے والا            |
|          | ی    | ا | و | ب  | ر | ج | مزے دار کھانے بنانے والا: |
|          |      | م | ج | ا  | ح | ج | بال بنانے والا:           |
|          |      | ا | ک | ا  | ی | ڈ | خط اور پارسل لانے والا:   |
|          |      |   | ب | دھ | ی | و | ہمارے کپڑے دھونے والا:    |
|          |      |   | م | ی  | ا | ل | پودوں کی حفاظت کرنے والا: |

سوال نمبر 2: مندرجہ ذیل میں کوئی سے چار الفاظ کے معانی لکھیں یہ تمام الفاظ مشق میں مہارت "نئے الفاظ" میں سے لیے جائیں گے۔ (4)

| معانی | الفاظ |
|-------|-------|
|       | قدرت  |
|       | أجالا |
|       | امین  |
|       | نزالا |
|       | مبھیڑ |

**SECTION – III****9 Marks**

سوال نمبر 1: مندرجہ ذیل الفاظ کے متضاد لکھیں۔ (4)

نوٹ: اس سوال میں متضاد الفاظ کے علاوہ مشتق میں مہارت "قواعد سکھیں" میں موجود تمام طرز کے سوالات دیئے جاسکتے ہیں۔

| متضاد | الفاظ |
|-------|-------|
|       | بار   |
|       | دن    |
|       | انسان |
|       | چچ    |

سوال نمبر 2: "مضمون" کے بارے میں پانچ جملے لکھیں۔ (5)

نوٹ: اس سوال میں مضمون کے علاوہ کونٹینٹ بک میں دیئے گئے خط، کہانی اور درخواست بھی پوچھی جاسکتی ہے۔

## واقفیت عامہ

### SECTION – I

Total Marks: 25  
9 Marks

سوال نمبر 1:

(الف) درج ذیل میں سے درست جواب والے دائرے کو بھریں۔ (5)

|                     |                                 |
|---------------------|---------------------------------|
|                     | -1 دریا کون سے وسائل کا حصہ ہے؟ |
| (A) انسانی وسائل    | (B) قدرتی وسائل                 |
| (C) سرمایہ کے وسائل | (D) ان میں سے کوئی نہیں         |

|           |  |
|-----------|--|
|           | -2 مندرجہ ذیل میں سے کونسا جانور نایاب جانور ہے؟ |
| (A) شیر   | (B) بھیریا                                       |
| (C) خرگوش | (D) کالا ہرن                                     |

|          |                                  |
|----------|----------------------------------|
|          | -3 سورج کس سمت میں غروب ہوتا ہے؟ |
| (A) جنوب | (B) شمال                         |
| (C) مشرق | (D) مغرب                         |

|           |   |
|-----------|---|
|           | -4 مندرجہ ذیل میں سے کونسا سبزی خور جانور ہے؟ |
| (A) شیر   | (B) چیتا                                      |
| (C) خرگوش | (D) چوہا                                      |

|          |  |
|----------|--|
|          | -5 میڈپول ----- کے دور حیات کا حصہ ہے۔ |
| (A) مرغی | (B) میڈک                               |
| (C) بلی  | (D) تیلی                               |

(ب) کالم الف کو کالم ب سے ملائیں : (4)

| کالم (الف) | کالم (ب)                      |
|------------|-------------------------------|
| کارخانے    | صرف گوشت کھاتے ہیں            |
| ہمہ خور    | سرمائے کے وسائل کا حصہ ہیں    |
| گوشت خور   | قدرتی وسائل کا حصہ ہیں        |
| جنگلات     | پودے اور گوشت دونوں کھاتے ہیں |

**SECTION – II**

**8 Marks**

سوال نمبر 1: مندرجہ ذیل سوالات میں سے کوئی سے چار سوالات کے مختصر جواب دیں۔ (8)

i قائد اعظم - کامزار کہاں واقع ہے؟

ii انسانی وسائل سے کیا مراد ہے؟

iii سورج جانداروں کے لیے کیوں اہم ہے؟




iv مطابقت سے کیا مراد ہے؟

v حشرات کے دور حیات کے چوتھے مرحلے میں کیا ہوتا ہے؟

**SECTION – III****8 Marks**

سوال نمبر 1:

(الف) نیچے دی گئی تصویروں کو پہچانیں اور ان کے نام لکھیں: (3)

|   |  |   |
|---|--|---|
|  |  |  |
|   |  |   |

(ب) دیئے گئے الفاظ کی مدد سے خالی جگہ پر کریں: (5)

(چھینا، معدنیات، شتر مرغ، بکرا، مشینیں)

1- ----- سرمائے کے وسائل کا حصہ ہیں۔

2- ----- قدرتی وسائل کا حصہ ہیں۔

3- ----- گوشت خور ہے۔

4- ----- سبزی خور ہے۔

5- ----- ہمہ خور ہے۔