

Model Paper for Class 2

Quality Assurance and Improvement Department (QAID)

We Assure Quality Education

Class: 2**GRADE: 2ND**

This is a sample paper for introduction of paper pattern only. PEF partners are encouraged to give the practice tests to students on the same pattern.

Roll No. _____	Signature of Supervisor _____
----------------	-------------------------------

GENDER
Please tick one

Male Female

Total Time: 2Hours

Total Marks: 100

Subject	Total Marks	Obtained Marks
Mathematics	25	
English	25	
Urdu	25	
واقفیت عامہ	25	
Total	100	

ضروری ہدایات

- 1- حاضری شیٹ کے مطابق صرف مقرر کی گئی جگہ پر اپنا رول نمبر تحریر کریں۔
- 2- طلباء (Male) والے اور طالبات (Female) والے ڈبے پر نشان لگائیں۔
- 3- ہر سوال لازمی ہے اور تمام مضامین کے یکساں نمبر ہیں۔
- 4- سوال حل کرنے سے پہلے دی گئی ہدایات غور سے پڑھ لیں۔
- 5- امتحانی مرکز میں طلباء و طالبات کے پاس کلپ بورڈ اور پین کے علاوہ کچھ اور نہیں ہونا چاہیے۔ تمام سوالات کو حل کرنے اور روف عمل کرنے کے لیے جگہ پرچہ میں موجود ہے لہذا کسی قسم کا اضافی صفحہ لانے کی ضرورت نہیں ہے۔
- 6- کچی پینسل کا استعمال ہرگز نہ کریں۔ صرف نیلی یا سیاہ بال پوائنٹ، پوائنٹ یا انک پین کا استعمال کریں۔
- 7- کاٹ کر یا کسی بھی طریقہ سے مٹا کر لکھے گئے جوابات غلط تصور ہوں گے۔
- 8- مقررہ وقت کے علاوہ کوئی اضافی ٹائم نہیں دیا جائے گا۔
- 9- نقل سے گریز کریں ورنہ آپ کا پرچہ کینسل کر دیا جائے گا۔
- 10- موبائل فون کا استعمال منع ہے۔
- 11- صرف نم اور دہم کلاسز کو کیلکولیٹر استعمال کرنے کی اجازت ہے۔
- 12- پرچہ جلد حل کرنے کی صورت میں اطمینان سے بیٹھیں اور مقررہ وقت کے ختم ہونے کا انتظار کریں۔



**PUNJAB
EDUCATION FOUNDATION**



MATHEMATICS**SECTION – I**Total Marks: 25
10 Marks

(1×3=3)

Q.No.1. Write the number with the help of values.

سوالنمبر 1-دی ہوئی قیمتوں کی مدد سے اعداد مکمل کریں۔

Example مثال	136 = <u>100</u> + <u>30</u> + <u>6</u>
(i)	<input type="text"/> = <u>500</u> + <u>50</u> + <u>0</u>
(ii)	<input type="text"/> = <u>200</u> + <u>70</u> + <u>8</u>
(iii)	<input type="text"/> = <u>300</u> + <u>20</u> + <u>5</u>

(1×4=4)

Q.No.2. Count in 100s and complete the sequence.

سوالنمبر 2: 100، 100 کر کے گنتے ہوئے دی گئی ترتیب مکمل کریں۔

(i)	80, 180, 280, _____, _____
(ii)	400, 500, _____, 700, _____
(iii)	10, 110, _____, _____, 410
(iv)	257, 357, _____, _____, 657

(1×3=3)

Q.No.3. Encircle the largest number.

سوالنمبر 3: سب سے بڑے عدد کے گرد دائرہ لگائیں۔

(i)	98 , 73 , 89
(ii)	359 , 467 , 549
(iii)	843 , 780 , 684

SECTION – II**8 Marks****(2 × 2 = 4)****Q.No.1. Solve:**

سوال نمبر 1: حل کریں:

<p>(i)</p> <table style="margin-left: auto; margin-right: auto;"> <thead> <tr> <th style="padding: 0 10px;"><i>H</i></th> <th style="padding: 0 10px;"><i>T</i></th> <th style="padding: 0 10px;"><i>O</i></th> </tr> </thead> <tbody> <tr> <td style="text-align: center;">3</td> <td style="text-align: center;">2</td> <td style="text-align: center;">6</td> </tr> <tr> <td style="text-align: center;">–</td> <td style="text-align: center;">2</td> <td style="text-align: center;">8</td> </tr> <tr> <td style="text-align: center;">4</td> <td style="text-align: center;">4</td> <td style="text-align: center;">4</td> </tr> <tr> <td colspan="3" style="text-align: center;">_____</td> </tr> </tbody> </table>	<i>H</i>	<i>T</i>	<i>O</i>	3	2	6	–	2	8	4	4	4	_____			<p>(ii)</p> <table style="margin-left: auto; margin-right: auto;"> <thead> <tr> <th style="padding: 0 10px;"><i>H</i></th> <th style="padding: 0 10px;"><i>T</i></th> <th style="padding: 0 10px;"><i>O</i></th> </tr> </thead> <tbody> <tr> <td style="text-align: center;">4</td> <td style="text-align: center;">5</td> <td style="text-align: center;">9</td> </tr> <tr> <td style="text-align: center;">+</td> <td style="text-align: center;">2</td> <td style="text-align: center;">9</td> </tr> <tr> <td style="text-align: center;">6</td> <td style="text-align: center;">6</td> <td style="text-align: center;">6</td> </tr> <tr> <td colspan="3" style="text-align: center;">_____</td> </tr> </tbody> </table>	<i>H</i>	<i>T</i>	<i>O</i>	4	5	9	+	2	9	6	6	6	_____		
<i>H</i>	<i>T</i>	<i>O</i>																													
3	2	6																													
–	2	8																													
4	4	4																													

<i>H</i>	<i>T</i>	<i>O</i>																													
4	5	9																													
+	2	9																													
6	6	6																													

(2 × 2 = 4)**Q.No.2. From the following questions solve any TWO.**

سوال نمبر 2: درج ذیل میں سے کوئی سے دو سوال حل کریں۔

<p>(i)</p> $6 \times 2 = \underline{\hspace{2cm}}$	<p>(ii)</p> $40 \div 4 = \underline{\hspace{2cm}}$
<p>(iii)</p> $7 \times 3 = \underline{\hspace{2cm}}$	

SECTION – III

7 Marks

Q.No.1. Write the numbers in words.

(1 × 4 = 4)

سوال نمبر 1: اعداد کو الفاظ میں لکھیے۔

Numbers(اعداد)	Words(الفاظ)
275	
432	
560	
345	

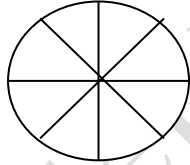
Q.No.2. Colour the shape for the given fraction.

(1 × 3 = 3)

سوال نمبر 2: دی گئی کسر کے لیے تصویر میں رنگ بھریں۔

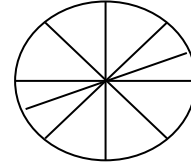
(i)

$\frac{5}{8}$



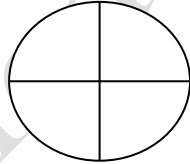
(iii)

$\frac{7}{10}$



(ii)

$\frac{3}{4}$



ENGLISH

Total Marks: 25

SECTION – I

8 Marks

Q.No.1.

(a) Fill any **FOUR** of the missing letters to complete the words.

(4)

draw ____ng	g ____ests	sis ____er	hon ____sty	so _l
-------------	------------	------------	-------------	-------

(b) Change numbers of these nouns by adding 's' or 'es'.

(4)

Singular	Plural
flower	_____
bus	_____
box	_____
bird	_____

SECTION – II

8 Marks

Q.No.1.

(a) Circle the correct spelling in each row.

(4)

Example: wiicked **wicked** wickeed

suppose	sappose	supposee
cruuch	crouch	crouuch
sating	seting	sting
sniff	snif	sanif

(b) Choose any **FOUR** and write the words in correct boxes. (4)

nephew	daughter	woman	princess	man
--------	----------	-------	----------	-----

Masculine	Feminine

SECTION – III **9 Marks**

Q.No.1.

(a) Fill in the given paragraph with ‘is’, ‘am’ or ‘are’. (4)

I am in grade two. I _____ seven years old. I _____ a good student. I have two friends. My mother _____ a doctor and my father _____ a lawyer. They are good people.

(b) Write **FIVE** sentences about ‘Bee’ with the help of the word bank. (5)



Insect	fly	colour	flower	hive
--------	-----	--------	--------	------

اردو

کل نمبر: 25

(نمبر: 10)

حصہ اول

نوٹ: حصہ اول میں کتاب کی مشقوں میں سے مہارت "آپ نے کیا سمجھا" میں سے کوئی بھی سوال پوچھا جاسکتا ہے۔

مندرجہ ذیل سوالات میں سے کوئی سے تین کے مختصر جوابات دیں۔ - (2X3)=6

سوال الف: کس کی ذات کو رحمت والا کہا گیا ہے؟

سوال ب: حمد کس نظم کو کہتے ہیں؟

سوال ج: آپ ﷺ ہمارے لیے کون سی کتاب لائے؟

سوال د: آپ خاتم النبیین ﷺ بچوں سے کیسا سلوک فرماتے تھے؟

خالی جگہ پر کریں۔ - (4)

الف	حضرت محمد رسول اللہ خاتم النبیین ﷺ اللہ تعالیٰ کے آخری ----- میں۔
ب	حضرت محمد رسول اللہ خاتم النبیین ﷺ موسم کا نیا پھل سب سے پہلے ----- کو دیتے۔
ج	جو چھوٹوں پر شفقت نہیں کرتا اور ----- کی عزت نہیں کرتا، اس کا ہم سے کوئی تعلق نہیں۔
د	حضرت محمد رسول اللہ خاتم النبیین ﷺ بہت ----- تھے۔

(نمبر: 10)

حصہ دوم

نوٹ: حصہ دوم میں کتاب کی مشقوں میں سے مہارتوں "قواعد سیکھیں" اور "لفظوں کا کھیل" میں سے کوئی بھی سوال پوچھا جاسکتا ہے۔

درج ذیل واحد الفاظ کی جمع لکھیں۔ - (4)

جمع	واحد
	پرنده
	طوطا
	انڈا
	دروازہ

درج ذیل الفاظ کو ان کے متضاد سے ملائیں۔ (3)

متضاد	الفاظ
سونا	دن
رات	مشکل
آسان	جاگنا

حرف ملا کر لفظ بنائیں اور سامنے لکھیں۔ (3)

	م+ح+ب+ب+ت
	ر+ح+م+ت
	ر+ح+ل+ت

(نمبر: 5)

حصہ سوئم

نوٹ: حصہ سوئم میں خط، درخواست اور مضمون کے علاوہ کتاب کی مشقوں میں سے مہارت "کچھ نیا لکھیں" میں سے کوئی بھی سوال پوچھا جا سکتا ہے۔

مثال کے طور پر دیے ہوئے الفاظ استعمال کرتے ہوئے اللہ تعالیٰ کی نعمتوں کے بارے میں پانچ جملے لکھیے۔

ماں باپ	ہاتھ پاؤں
آنکھیں	کان
کھانے پینے کی چیزیں	

واقفیت عامہ

کل نمبر: 25

سوال نمبر 1: درج ذیل میں سے درست جواب والے دائرے کو بھریں۔ (5)

-1 پاکستان کے دارالحکومت کا کیا نام ہے؟	
(A) پشاور	(B) اسلام آباد
(C) ملتان	(D) کوئٹہ

-2 مسلمان عید الفطر کب مناتے ہیں؟	
(A) 10 ذوالحجہ	(B) یکم شوال
(C) 12 ربیع الاول	(D) 20 ذوالحجہ

-3 پودے کی خوراک کون بناتا ہے؟	
(A) پھول	(B) پتہ
(C) جڑ	(D) تنہ

-4 خرگوش کہاں رہتا ہے؟	
(A) گھونسلے میں	(B) پہاڑوں میں
(C) بھٹ میں	(D) پانی میں

-5 ڈینگلی بخار کس کی وجہ سے پھیلتا ہے؟	
(A) مکھی	(B) چمچ
(C) چیونٹی	(D) لال بیگ

سوال نمبر 2: کالم الف کو کالم ب سے ملائیں۔ (5)

کالم (ب)	کالم (الف)
سرڑکیں	جرائم کی روک تھام کے لیے
پولیس سٹیشن	تعلیم کے لیے
عدالتیں	علاج کے لیے
سکول	انصاف کے لیے
ہسپتال	آمدورفت کے لیے

سوال نمبر 3: مندرجہ ذیل میں سے کوئی سے پانچ سوالات کے مختصر جوابات دیں۔ (5×2=10)

1۔ صوبہ پنجاب میں کونسی زبان بولی جاتی ہے؟

2۔ کوئی سی دو سہولیات لکھیں جو آپ کو شہر میں میسر ہیں اور گاؤں میں نہیں۔

3۔ پاکستان کے پرچم میں سبز رنگ کس چیز کو ظاہر کرتا ہے؟

4۔ شہریوں کے کوئی سے دو حقوق لکھیں۔

5۔ دیگر مذاہب کے کوئی سے دو تہواروں کے نام لکھیں۔

6۔ پودوں کے کوئی سے دو فائدے لکھیں۔

سوال نمبر 4: دیئے گئے الفاظ کی مدد سے خالی جگہ پر کریں۔ (5)

گھر	نوٹیاں	سندھی	صاف ستھرا	پانی
-----	--------	-------	-----------	------

1-	تہوار کے موقع پر لوگ ----- مناتے ہیں۔
2-	دیہات میں ----- کچے ہوتے ہیں۔
3-	زمین کی تہ میں بھی ----- کا ذخیرہ موجود ہے۔
4-	دیہات میں ماحول ----- ہوتا ہے۔
5-	صوبہ سندھ کے لوگ ----- زبان بولتے ہیں۔